


相等的部份有同样的形状和大小。




| | | |
|--|--|---|
| <p><u>2</u> 个相等的部份</p>  <p>二分之一 三分之一 四分之一</p> | <p><u>3</u> 个相等的部份</p>  <p>二分之一 三分之一 四分之一</p> | <p><u>4</u> 个相等的部份</p>  <p>二分之一 三分之一 四分之一</p> |
|--|--|---|

有几个相等的部份？写出有几个部份。
圈出二分之一，三分之一或四分之一。

1. ____ 个相等的部份 2. ____ 个相等的部份 3. ____ 个相等的部份

| | | |
|---|--|--|
|  <p>二分之一 三分之一 四分之一</p> |  <p>二分之一 三分之一 四分之一</p> |  <p>二分之一 三分之一 四分之一</p> |
|---|--|--|

4. ____ 个相等的部份 5. ____ 个相等的部份 6. ____ 个相等的部份

| | | |
|---|---|--|
|  <p>二分之一 三分之一 四分之一</p> |  <p>二分之一 三分之一 四分之一</p> |  <p>二分之一 三分之一 四分之一</p> |
|---|---|--|

| | | | | | |
|---------|---------|---------|---------|---------|---------|
| 1 | 2 | 3 | 4 | 5 | 6 |
| 7 6 6 | 4 1 8 | 2 1 2 | 3 7 3 | 9 3 3 | 4 7 3 |
| + 5 8 9 | + 3 9 5 | + 9 0 1 | + 6 8 1 | + 5 9 6 | + 2 3 0 |
| + 1 6 4 | + 4 7 8 | + 4 2 0 | + 9 1 8 | + 1 4 8 | + 8 1 4 |
| | | | | | |

| | | | | | |
|---------|---------|---------|---------|---------|---------|
| 7 | 8 | 9 | 10 | 11 | 12 |
| 8 0 1 | 1 0 6 | 9 3 9 | 8 4 8 | 7 2 2 | 7 1 9 |
| + 2 6 4 | + 4 5 0 | + 5 0 1 | + 8 2 1 | + 9 8 6 | + 4 8 3 |
| + 6 4 4 | + 3 8 4 | + 3 9 0 | + 6 6 5 | + 5 6 5 | + 9 9 6 |
| | | | | | |